

ALUNO(A): \_\_\_\_\_


DATA: \_\_\_\_/\_\_\_\_/\_\_\_\_ 1º ANO - MATEMÁTICA

## JARDIM DA SUBTRAÇÃO

1. RESOLVA AS SUBTRAÇÕES (VOCÊ PODE RISCAR OS DESENHOS):




$$5 - 2 = \square$$




$$6 - 3 = \square$$



$$4 - 1 = \square$$



$$7 - 4 = \square$$



$$8 - 2 = \square$$

 **DESAFIO DE DESENHAR E TIRAR:**

- DESENHE 5 BALÕES NO QUADRO ABAIXO.
- AGORA, RISQUE 2 BALÕES QUE ESTOURARAM.
- QUANTOS SOBRARAM? \_\_\_\_\_

