







NOME: _____

DATA: ____/____/____ DESAFIO MATEMÁTICO

DETETIVES DOS NÚMEROS

1. DESAFIO DE ORGANIZAR: COMPLETE A GRADE SEM REPETIR!

Cada linha e cada coluna deve ter um 🌟, uma 🌙 e uma ★.

2. DESAFIO DE CONTAR E COMPARAR:

No estacionamento da escola há:



A) Quantos veículos existem ao todo? _____

B) Há MAIS carros ou MAIS motos? _____

C) Quantos carros há a mais que as motos? _____

3. QUEM SOU EU? (LOGICA DE ADIVINHAÇÃO)

"SOU UM NÚMERO MAIOR QUE 5 E MENOR QUE 7. QUEM SOU EU?"

RESPOSTA: _____

