


NOME: \_\_\_\_\_


DATA: \_\_\_\_/\_\_\_\_/\_\_\_\_ 1º ANO

## GRANDEZAS E MEDIDAS

### 1. OBSERVE OS PEIXINHOS ABAIXO:



( A )



( B )





( C )

☐ Qual é o peixinho **MAIOR**? (A) (B) (C)

☐ Qual é o peixinho **MENOR**? (A) (B) (C)

### 2. PINTA A ÁRVORE MAIS ALTA E CIRCULE A MAIS BAIXA:



### 3. DESENHE UMA BOLA MENOR QUE ESTA:



Desenhe aqui

