

ESCOLA: _____

ESTUDANTE: _____




DATA: ___/___/___

TURMA: 2º ANO - MATEMÁTICA

MAIS DESAFIOS COM NÚMEROS

1. O MERCADINHO:

Observe os preços abaixo e responda:

-  **Arroz:** R\$ 15,00
-  **Feijão:** R\$ 8,00
-  **Açúcar:** R\$ 4,00

Se mamãe comprar o **Arroz** e o **Feijão**, quanto ela gastará?

CÁLCULO

RESPOSTA: Ela gastará R\$ _____

2. QUEM TEM MAIS?

Lucas tem **45** anos. Seu filho João tem **12** anos. Quantos anos Lucas é mais velho que João?

CÁLCULO

RESPOSTA: Lucas é _____ anos mais velho.

3. SEQUÊNCIA LÓGICA:

Complete a sequência de números pulando de **5 em 5**:

5 - 10 - _____ - 20 - _____ - 30 - _____ - 40

4. PROBLEMINHA DO ÔNIBUS:

No ônibus havia **20** pessoas. No primeiro ponto, desceram **5** pessoas e subiram **3**. Quantas pessoas ficaram no ônibus?

CÁLCULO

RESPOSTA: Ficaram _____ pessoas.