

ALUNO(A): _____

DATA: ____/____/____ 2º ANO - MATEMÁTICA


DIVIDIR É REPARTIR IGUALMENTE

O QUE É DIVIDIR?


É DISTRIBUIR UMA QUANTIDADE EM PARTES IGUAIS, SEM DEIXAR NINGUÉM COM MAIS OU COM MENOS!

1. REPARTA OS DOCES ENTRE AS CRIANÇAS:

TEMOS **8 DOCES** PARA DIVIDIR ENTRE **2 CRIANÇAS**. DESENHE OS DOCES NOS CÍRCULOS ABAIXO:



Grupo




Grupo


CADA CRIANÇA RECEBEU _____ DOCES.

2. DISTRIBUA AS FLORES NOS VASOS:


TEMOS **9 FLORES** PARA COLOCAR EM **3 VASOS**. DESENHE AS FLORES IGUALMENTE:



Grupo



Grupo



Grupo

CADA VASO FICOU COM _____ FLORES.

3. PENSAMENTO LÓGICO:

SE EU TENHO **10 LÁPIS** E QUERO DIVIDIR COM **1 AMIGO** (SOMOS 2 PESSOAS),
COM QUANTOS LÁPIS CADA UM FICA?

() 2 LÁPIS () 5 LÁPIS () 10 LÁPIS

4. DESAFIO:

VOCÊ TEM 6 FIGURINHAS. SE VOCÊ DER A METADE PARA SEU IRMÃO, COM
QUANTAS VOCÊ FICARÁ?

R: Ficarei com _____ figurinhas.