


ALUNO(A): _____

DATA: ____/____/____ 2º ANO - MATEMÁTICA

EXPLORANDO AS FIGURAS PLANAS

1. OBSERVE AS FORMAS E COMPLETE AS INFORMAÇÕES:



QUADRADO


NÚMERO DE LADOS: ____

NÚMERO DE PONTAS (VÉRTICES):

TRIÂNGULO

NÚMERO DE LADOS: ____

NÚMERO DE PONTAS (VÉRTICES):



CÍRCULO

ELE TEM LADOS RETOS? () SIM () NÃO

ELE TEM PONTAS? () SIM () NÃO









RETÂNGULO

NÚMERO DE LADOS: ____

OS LADOS SÃO TODOS IGUAIS? ____

2. PINTE AS FIGURAS DE ACORDO COM A LEGENDA:

-  CÍRCULOS DE **AZUL**
-  QUADRADOS DE **VERMELHO**
-  TRIÂNGULOS DE **AMARELO**
-  RETÂNGULOS DE **VERDE**



3. DESAFIO:

QUAL É A FIGURA PLANA QUE SE PARECE COM UMA MOEDA? _____

QUAL É A FIGURA PLANA QUE SE PARECE COM A PORTA DA SALA?
