

ALUNO(A): \_\_\_\_\_






DATA: \_\_\_\_/\_\_\_\_/\_\_\_\_ 2º ANO - MATEMÁTICA

## O NOSSO DINHEIRO: O REAL

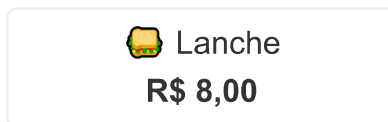
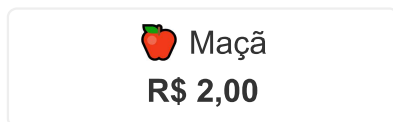
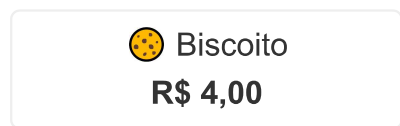
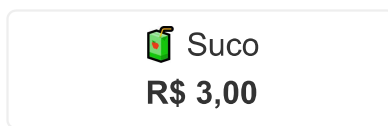
No Brasil, a nossa moeda oficial é o **Real**. O símbolo que usamos é o **R\$**.

### 1. IDENTIFIQUE OS VALORES:

Escreva o valor de cada nota ou moeda abaixo:



### 2. MERCADINHO DA SALA:



A) QUANTO CUSTA COMPRAR UM SUCO E UM BISCOITO JUNTOS?

R\$ \_\_\_\_\_

B) SE VOCÊ PAGAR O SORVETE COM UMA NOTA DE **R\$ 10,00**, QUAL SERÁ O SEU TROCO?

R\$ \_\_\_\_\_

C) QUAL É O PRODUTO MAIS CARO DO NOSSO MERCADINHO?

\_\_\_\_\_

### 3. DESAFIO DE TROCA:

PARA FORMAR **R\$ 10,00**, EU PRECISO DE QUANTAS NOTAS DE **R\$ 5,00**?

☐ 1 NOTA   ☐ 2 NOTAS   ☐ 5 NOTAS

SE EU TIVER **5 MOEDAS DE 1 REAL**, EU TENHO O MESMO VALOR QUE UMA NOTA DE **R\$ 5,00**?

☐ SIM   ☐ NÃO